

Титульный лист

Направление информатика история математика
 обществознание русский язык физика
 химия

Класс 8 9 10 11

Фамилия К Е С Л Е Р

Имя Е К А Т Е Р И Н А

Отчество И В А Н О В Н А

Дата рождения 1 2 0 5 2 0 0 6

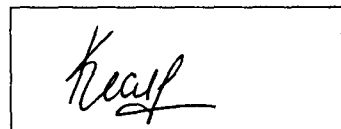
Город участия Е К А Т Е Р И Н Б У Р Г

Аудитория 4 5 9

Телефон 8 9 0 8 7 1 9 7 1 0 3


Дата 0 3 0 2 2 0 2 4

Подпись



Пример
заполнения

А Б В Г Д Е Ж З И Й К Л М Н О П Р С Т У Ф
Х Ц Ч Ш Щ Ъ Ы Ь Э Ю Я 1 2 3 4 5 6 7 8 9 0



Проверочный лист
Заполняется участниками

Направление информатика история математика
 обществознание русский язык физика
 химия

Класс 8 9 10 11

Город участия Е К А Т Е Р И Н Б У Р Г

Заполняется организаторами


Количество доп. листов Количество черновиков к проверке


Время выхода с : до :

Протокол проверки
Заполняется жюри


Номер задания	1	2	3	4	5	6	7	8	9	10
Балл члена жюри №1	18	13	13	8	6	7	7	7	7	7
Балл члена жюри №2	18	13	13	8	6	7	7	7	7	7

Итоговый балл 58

Подпись члена жюри №1 

Подпись члена жюри №2 

Пример заполнения А Б В Г Д Е Ж З И Й К Л М Н О П Р С Т У Ф
Х Ц Ч Ш Щ Ъ Ы Ь Э Ю Я 1 2 3 4 5 6 7 8 9 0



Задание 1

1 а) 7006 б) 7157

2 а)
$$\begin{array}{r} 7006 \\ - 5509 \\ \hline 1497 \end{array}$$
 б)
$$\begin{array}{r} 7157 \\ - 5509 \\ \hline 1648 \end{array}$$

а) 1497 год - принятие судебника Ивана III

б) 1648 год - принятие Соборного уложения. ≠

185

2 задание


1) автор картины - название

В центре композиции изображен Леонид Брежнев. +3

2) Изображенные на картине события происходили в 1943 году на Крымском полуострове. —

3) Я предполагаю, что картина была написана в период политической разрядки, т.е. в годы правления Брежнева. Стиль написания можно считать изменением отношения и переосмыслением периода Великой Отечественной войны. Велась активная популяризация событий этой войны, появились доступ к архивам, которые ранее были "под замком"

138



Задача 3.

1) 17 век, 1660-е годы
автор текста -

≠ 3

2) Из данного отрывка можно узнать, что в денежной системе Московского царства необходимы были преобразования, так как монета, выпускаемая монетными дворами не привязана к стандартам и люди не доверяли таким деньгам. Таким образом монета, которая считалась ранее была больше по весу и приравнивалась к 21 алтыну, новая же приравнивалась к 5. Крестьяне же, недовольные тем, что в оборот входят новые монеты, ненадежные, которые делятся относительно других единиц денег, стали возить и продавать «сено, и дрова, и светлые запасы» дороже. Также народ не устраивало, то что в козну они должны отдавать старую монету, которая весит больше, а получать от купцов новые.

(Автор текста) -


Денетные единицы: рублевники, гривны, палтинники медные, алтын, соринки Любские, денги.

3) Русско-польская война 1654-1667 гг. ≠

Последствием этого внешнеполитического события были уменьшение внешней торговли с Польшей и последующие военные конфликты по поводу земель между этими странами. Спустя век Российская империя также будет претендовать на земли Польши во время 3 раздела Речи Посполитой.

Медная реформа. Главным последствием этой реформы является медный бунт. ≠ 4

135



Задание 4

- 1 ряд: вершок, сажень, локоть, пядь. Меры длины, которые произошли по аналогии с частями тела человека. #4
- 2 ряд: ведро, чарка, пуд, копна. Меры веса, которые измерялись разными емкостями. #3
- 3 ряд: штопор, берковец, золотник, лот. Меры, определяемые материалами.
- 4 ряд: десятина, осьминник, сеть, шкарик. Меры длины, связанные с числовым значением. #5

Задание 5

- 1) На первом фото изображен Ордоникидзе. Цель! #6
- 2) Представленный деятель и два других изображения связаны с первой пятилеткой. Именно тогда впервые начали использоваться МПС! Решке Ордоникидзе явился должностным лицом, отвечающим за проведение этой политики.

