



Титульный лист

Направление информатика история математика
 обществознание русский язык физика
 химия

Класс 8 9 10 11

Фамилия Ж И Я К О В

Имя Ф Ё Д О Р

Отчество С Е Р Г Е Е В И Ч

Дата рождения 2 2 0 6 2 0 0 6

Город участия И А Г Н И Т О Г О Р С К

Аудитория 1 4


Телефон 8 9 8 2 1 0 1 9 8 8 5

Дата 0 3 0 2 2 0 2 4

Подпись

Пример
заполнения

А Б В Г Д Е Ж З И Й К Л М Н О П Р С Т У Ф
Х Ц Ч Ш Щ Ъ Ы Ь Э Ю Я 1 2 3 4 5 6 7 8 9 0



Проверочный лист
Заполняется участниками

Направление информатика история математика
 обществознание русский язык физика
 химия

Класс 8 9 10 11

Город участия МАГНИТОГОРСК

Заполняется организаторами


Количество доп. листов Количество черновиков к проверке
 Время выхода с : до :

Протокол проверки
Заполняется жюри


Номер задания	1	2	3	4	5	6	7	8	9	10
Балл члена жюри №1	20	16	17	13	8	8	8	8	8	8
Балл члена жюри №2	20	16	17	13	8	8	8	8	8	8

Итоговый балл 74

Подпись члена жюри №1 

Подпись члена жюри №2 

Пример заполнения А Б В Г Д Е Ж З И Й К Л М Н О П Р С Т У Ф
 Х Ц Ч Ш Щ Ъ Ы Ь Э Ю Я 1 2 3 4 5 6 7 8 9 0



Бланк ответов
Задание 1

1. а) 7006 + 4
б) 7157 + 4

2. Известно, что ранее летоисчисление мира проходило от рождения Иисуса Христа. Известно, что датой основания мира ранее считался 5505 год до н.э., если считать от рождения Иисуса Христа. Исходя из этого под цифрой "а" 7438 год. Однако стоит помнить, что ранее новый год начинался 1 сентября, а не 1 января. Исходя из этого можно предположить, что Судебный Ивана III, который мы связываем с 1497 годом, также можно отнести к этой дате. Судебный Ивана III был Юрьев день, тем самым начал процесс закрепощения крестьян. Под цифрой "б" 1648 год. Известно, что в этот год было введено соборное уложение, которое закончило процесс закрепощения крестьян.

Задание 2

- 1) На картине изображен Леонид Брежнев, ставший генеральным секретарем ЦК КПСС в 1964 и занимающий эту должность до 1982 г.
- 2) События на картине происходят во время Великой Отечественной войны в 1943 году.
- 3) В этом году произошла битва за Севастополь, в Брежнев принимал участие.
- 3) В 40-е годы XX века были опубликованы мемуары по тем событиям, в которых упоминается роль Брежнева. По ним была написана данная картина. Период управления страной Брежневым принято называть застоем.

Задание 3

- 1) События текста происходят в 16-е годы XVIII века в период царствования Алексея Михайловича. Вполне возможно, что этот текст написал известный государственный деятель этого периода Ордин-Нащокин.
- 2) Из описания можно узнать, что для пополнения казны государства стало делать монеты меньшего размера для пополнения казны и выдачи ратным людям жалования. Также дачи и полтинники стали делать из меди все по тем же причинам. Из этого описания можно увидеть, что в этот период существовали такие денежные единицы, как: деньги (денега), алтын, гривны, полтинники, четверть рубля, рубль и т.д.
- 3) В тексте названы войны с Речью Посполитой и Швецией. Война с Речью Посполитой, после того как герцог левобережной Украины Богдан Хмельницкий решил присоединиться к Русскому государству в 1653 г. Также причиной войны послужило несогласие с Андрушевским перемирием (1651) с Польско-литовцами, где по первому Россия лишилась своих западных земель, включая Смоленск, а по второму не смогла забрать эти земли, но всё окончилось бездарно для России. Война шла с 1654 по 1667 г. с подписанием

Бланк ответов


Андруссовского перемирия. По нему Россия возвращала все ранее утраченные земли и также получила в аренду Киев. Позже Киев будет выделен по "вечному миру" 1686 года. Война со Швецией была реваншем за утраченные по Седобовскому мирному договору (1617). Она продолжалась с 1657 по 1658. Война окончилась ничьей для России, потому что основная армия была направлена на войну с Речью Посполитой. Факты в тексте указывают на то, что начали делить земли и политички из земли на которые крестьяне не хотели давать продукты из-за чего в городах все подорожало. Позже это назвали "Медными бунтами" (1662), которые были подавлены, но вместе с тем медные монеты были отменены.

Задание 4

скалак, штар, ведро, чарик - обозначение объема жидкости $\neq 5$
саженю, локоть, пядь, вершок - меры длины, использующиеся в повседневности $\neq 4$
пуд, берковец, тейчеть - вес $\neq 4$
кала, осьминник, золотник, вершок - количественное обозначение

Задание 5

- 1) На первом фото изображен Армянский завод, который маркирован черной металлизацией в первую и вторую пятничку.
- 2) Именно в этот период было построено огромное число заводов в том числе заводов-гигантов. На второй и третьей фотографии изображены поезда. Именно в них приезжали первые рабочие, которые жили в палатках, землянках, бараках. Вполне возможно, что на 2 из изображений представлены поезда в городах Магнитогорск и Свердловск. Екатеринбург, потому что именно в этих городах есть Армянские районы, названные в честь Армяков.



Бланк ответов

