

Титульный лист

Направление анализ данных информатика история
 математика обществознание русский язык
 физика химия

Класс 8 9 10 11

Фамилия С А Л А Х О В А

Имя А Л И Я

Отчество Р У С Т Е М О В Н А

Дата рождения 1 5 0 1 2 0 1 1

Город участия У Ф А

Аудитория 9-501

Дата 02 02 2026

Подпись

Пример заполнения
А Б В Г Д Е Ж З И Й К Л М Н О П Р С Т У Ф
Х Ц Ч Ш Щ Ъ Ы Ь Э Ю Я 1 2 3 4 5 6 7 8 9 0



Линия отреза

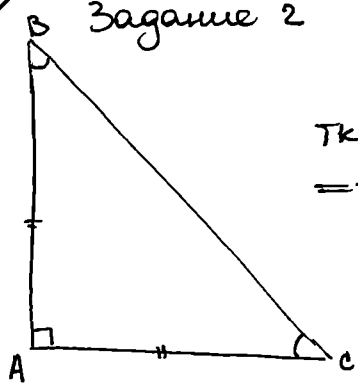
2

Задача 2

Бланк ответов

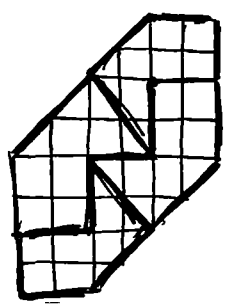
Тк $\triangle ABC$ прямоугольный и равнобедренный
 $\Rightarrow \angle B = \angle C = 45^\circ$

$\angle A = 90$
 $\angle B \angle C = 45$



см ✓

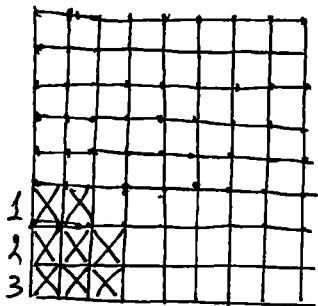
Задача 1



7

Задание 3

Возьмем условие в клетках,
отметим x



Задание 4

Между 2026 и 2025 = 1

Соответственно, нам нужно составить комбинацию заклинаний с выходящим ответом -1 ✓

$$+373 + 776 - 712 - 557 - 557 + 776 = -1 \quad 99$$

Ответ Гарри Поттеру пригодятся все заклинания в порядке 1 2 3 4 4 2. Итого в заклинании ✓
пример неверно

Линия отреза

Бланк ответов



Линия отреза

Бланк ответов

