

Проверочный лист

Заполняется участниками

Направление анализ данных информатика история
 математика обществознание русский язык
 физика химия

Класс 8 9 10 11

Город участия

Заполняется организаторами

Количество доп. листов Количество черновиков к проверке

Время выхода с до


Протокол проверки

Заполняется жюри

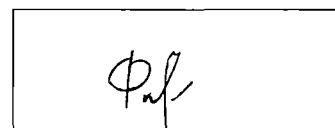
| Номер задания | 1 | 2 | 3 | 4 | 5 | 6 | 7 | 8 | 9 | 10 |
|--------------------|--------------------------------|---------------------------------|--------------------------------|---------------------------------|---------------------------------|----------------------|----------------------|----------------------|----------------------|----------------------|
| Балл члена жюри №1 | <input type="text" value="9"/> | <input type="text" value="16"/> | <input type="text" value="0"/> | <input type="text" value="17"/> | <input type="text" value="15"/> | <input type="text"/> | <input type="text"/> | <input type="text"/> | <input type="text"/> | <input type="text"/> |
| Балл члена жюри №2 | <input type="text" value="9"/> | <input type="text" value="16"/> | <input type="text" value="0"/> | <input type="text" value="17"/> | <input type="text" value="15"/> | <input type="text"/> | <input type="text"/> | <input type="text"/> | <input type="text"/> | <input type="text"/> |

Итоговый балл

Подпись члена жюри №1




Подпись члена жюри №2



Пример заполнения

А Б В Г Д Е Ж З И Й К Л М Н О П Р С Т У Ф
 Х Ц Ч Ш Щ Ъ Ы Ь Э Ю Я 1 2 3 4 5 6 7 8 9 0



Линия отреза

Задача 1

1 Исторический деятель - Людовик XVI

2 Имя Людовика XVI связано с Великой Французской революцией (1789-1799) Он был монархом в это время Из-за политики Людовика как в экономическом плане (с чем связана бакиноты), так и в социальном плане ^{которую} не устраивало население Франции, поднялись восстания и недовольства Изобретав себе на бакиноте Людовик таким образом все сильнее закрепил за Францией статус самодержавной монархии, когда же люди, подданные пропали установили Республику во Франции Людовик был казнен

3 В России в 1769г Екатерина II ввела ассимиляцию Это были буржунские деньги, бакиноты связуют ассимиляцию земледельцев в фоботе денежного обращения, когда как деньги, монеты могли создать связь и ширинию, поэтому теперь деньги, мерные монеты обменивались на ассимиляцию Это позволило России сократить расходы по чешские монеты, так в единичный период времени их купили были деньги но великие войны - 3

4 Введена ассимиляционная система была в 1769г, когда русско-турецкая война началась в 1768г и закончилась в 1774г Имели благодаря ввели ассимиляцию России смогла преодолеть кризис Угрозу эта система была в ~~1839-1849~~ ^{советские времена} ~~но реформа привнесла рубль в качестве~~ ^{стране} ~~Большое количество~~ ассимиляцией вызвало ширинию в России и деньги обесценились 5

Задача 2

1 Речь идет о местничестве

Местничество - система, существовавшая ~~в~~ в допетровской Руси и активно начала развиваться при Иване 3, Иване 4, коррозумевалось под собой определение людей на государственные должности, большие бакиноты по знатности рода, семьи, отце Место занимает, которую мог занимать отец, дедушка и сын ~~Местничество~~ Местничество определено статусе человека не по личным достижениям, а по знатности его предков Существовал Государев родословец - все знатные бояре, роды во ~~длин~~

2 Эти люди были готовы поехать в опасн, ти поминоти, что в государстве об-ществе на тот момент отсутствовали социальные лифты - возможности продвижения по карьере, получили более высоко чина Каменни бы не были личны достигали чин человека, его место уже определено знатностью рода и Государевым родословцем Люди были против такого определени своего места по рождению, поэтому многие протестовали, так как поминоти, что треть им кино А те, кто были вынуждены званием похупами так скорее всего из-за опричной личной неурядици, а также для того, чтобы помочь царю свое недовольство смонивши 1 системой назначенные мест Стоит отметить, что вынуждены были поминоти,

что царь вред и им троит, убьет или серьезно изменит, ведь они сами из дворянского рода, а царь не мог себе позволить тронуть кого-то дворянского, чем мог бы вызвать недовольство у остальных дворян. А влиять царь в то время оперировал не бояр, поэтому ему приходится с ними считаться

Задачи 4

1 Мао Цзэдун, Никита Хрущев, Карл Маркс, Владимир Ленин, Леонид Брежнев, Иосиф Сталин

2 1955-е годы - Из изображения понятно, что ~~оно~~ события происходят во время влиятельности Никиты Хрущева в партии. Изображение портретов Мао Цзэдуна и Хрущева известно, что Мао был приверженцем политики Сталина и поддерживал ее, когда сам Хрущев переломывал Сталина, критикуя его. Поэтому это относится нас к тому, что изображение относится к событиям, произошедшим после 1956г. (XIX съезд), т.к. на портрете изображены Сталин, то можно с уверенностью сказать, что изображение связано с культом личности Сталина и его размышлениями Маркс и Ленин изображены на картине, т.к. Хрущев утверждал, что Сталин отделил от коммунистической партии

3 XIX съезд КПСС 1956г. - размышлениями культа личности Сталина Хрущевым - событие внутренней политики. На этом съезде Хрущев раскритиковал Сталина, заявив, что все его политическое было выстроено не для того, чтобы по приходу и коммунизму, а для того, чтобы выстроить культ собственной личности. Обвинил его в отходе от коммунизма, ~~называвшимся~~ Лениным во время создания СССР

События внешней политики - ухудшение отношений КНР и СССР. Это связано с отношениями Мао Цзэдуна и Хрущева, его политике, жесткостью, что привело к повороту, отношениям и возникновению проблемы отношений коммунистов

Задачи 5

Дейтели

- 1 - Енохтерия II
- 2 - Рождивев
- 3 -
- 4 - Герцел
- 5 - Ленин

Название - это название кургана, ~~где~~ обнаруженные в XVIII-XIX вв. для того, чтобы выразить мнение, отбросить полит. позицию, сообщить о последних событиях

- 1 - Енохтерия II - "Ваша вечно"
- 2 - Рождивев "Трутни"
- 3 - Мокшатов
- 4 - Герцел "Колос"
- 5 - Ленин "Игра"

Ленин название - Термин

Линия отреза

Задачи 3

Бланк ответов

На первой фотографии изображены воин, похожий на солдатского, барабана, ~~но~~ можно предположить, что речь идет о войне, либо военных действиях. На второй фотографии изображены крейсер Аврора. На третьей фотографии изображено ~~лет~~ крушение корабля, топящей корабль. Можно предположить, что событие связано с Русско-японской войной 1904-1905 г., т.к. это война, в ней участвовал крейсер Аврора, крушение которого тогда произошло.

55



Линия отреза

Бланк ответов

